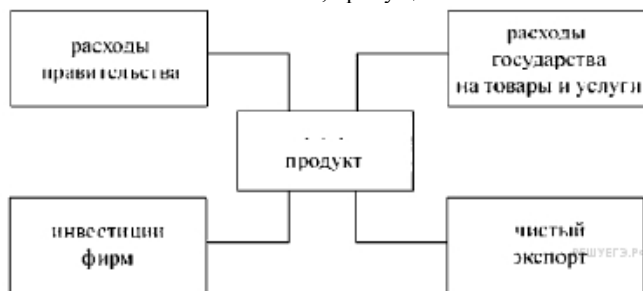


Демоверсия административной контрольной работы по обществознанию.

11 класс. 2019- 2020 учебный год

1.

Напишите словосочетание, пропущенное на схеме



2. Найдите понятие, которое является обобщающим для всех остальных понятий представленного ниже ряда. Запишите это слово (словосочетание).

Система образования, образовательные учреждения, цели образования, функции образования в обществе, образовательные программы.

3. Ниже приведён ряд терминов. Все они, за исключением двух, являются признаками демократии.

- 1) свободные выборы
- 2) многопартийность
- 3) террор
- 4) плюрализм мнений
- 5) отрицание оппозиции
- 6) принцип открытости и гласности в деятельности государственных органов

Найдите два термина, «выпадающих» из общего ряда, и запишите в ответ цифры, под которыми они указаны.

4. Выберите верные суждения о тенденциях в развитии образования и запишите цифры, под которыми они указаны.

- 1) Тенденция гуманизации проявляется в снижении числа домашних работ для учеников.
- 2) Тенденция гуманитаризации проявляется в повышении внимания в учебном процессе к таким предметам, как история и право.
- 3) Демократизация образования проявляется в реализации принципа равных возможностей.
- 4) Появление таких форм обучения как дистанционное образование, является проявлением тенденции интернационализации.
- 5) Внедрение электронных пособий в процесс обучения является проявлением тенденции информатизации.

5. Установите соответствие между характеристиками и типами культуры, которые они иллюстрируют: к каждой позиции, данной в первом столбце, подберите соответствующую позицию из второго столбца.

ХАРАКТЕРИСТИКА	ТИП КУЛЬТУРЫ
А) основной круг потребителей — высокообразованная часть общества	1) массовая
Б) понятна и доступна всем слоям населения независимо от уровня образования	2) элитарная
В) включает в себя авангардные направления искусства	3) народная
Г) произведения создаются анонимными творцами, не имеющими профессиональной подготовки	
Д) приоритет развлекательных жанров в духовной деятельности	

Запишите в ответ цифры, расположив их в порядке, соответствующем буквам:

6.

В африканской стране Z набирает популярность движение противников глобализации. Какие перечисленные ниже явления, отмечающиеся в стране Z, могли вызвать критику со стороны участников этого движения? Запишите цифры, под которыми они указаны.

- 1) распространение западной массовой культуры
- 2) расширение транспортного сообщения с другими странами
- 3) большой выбор товаров, произведённых в разных странах
- 4) перенос на территорию страны экологически вредных производств транснациональными корпорациями
- 5) распространение новых производственных и информационных технологий
- 6) быстрый рост числа иммигрантов из других стран

7.

Выберите верные суждения о безработице и запишите номера, под которыми они указаны.

- 1) Безработицей называют преобладание спроса на рабочую силу над её предложением.
- 2) По характеру причин безработица делится на галопирующую, фрикционную и циклическую.
- 3) Структурная безработица связана с изменением спроса на труд в отдельных отраслях и регионах вследствие научно-технического прогресса.
- 4) Естественным называют средний уровень безработицы, вокруг которого на протяжении многих лет колеблется занятость населения.
- 5) Циклическая безработица возникает в период экономического подъёма.

8. Установите соответствие между характеристиками / примерами и факторами производства: к каждой позиции, данной в первом столбце, подберите соответствующую позицию из второго столбца.

ХАРАКТЕРИСТИКИ / ПРИМЕРЫ

ФАКТОРЫ
ПРОИЗВОДСТВА

- А) услуги, которые оказывают люди, способные принять на себя риск потери капитала
- Б) все виды полезных ископаемых
- В) производственные мощности, инфраструктура
- Г) факторный доход — заработная плата
- Д) объём денежной массы

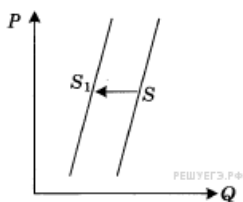
- 1) труд
- 2) земля
- 3) капитал
- 4) предпринимательство

Запишите в таблицу выбранные цифры под соответствующими буквами:

9. В компании Z принято стратегическое решение об открытии нового направления по производству бытовой техники. Найдите в приведённом ниже списке подтверждения того, что речь идёт об интенсивном экономическом росте данного предприятия. Запишите цифры, под которыми они указаны.

- 1) используются современные компьютерные технологии
- 2) приобретена партия оборудования прошлого поколения
- 3) осуществляются инвестиции в инновационные разработки
- 4) происходит повышение квалификации работников
- 5) повышается производительность труда
- 6) масштабы производства увеличены за счёт открытия новых цехов

10.



На графике отражена ситуация на рынке обуви: линия предложения S переместилась в новое положение S_1 (P — цена товара, Q — количество товара). Какие из перечисленных факторов могут вызвать такое изменение? Запишите цифры, под которыми они указаны.

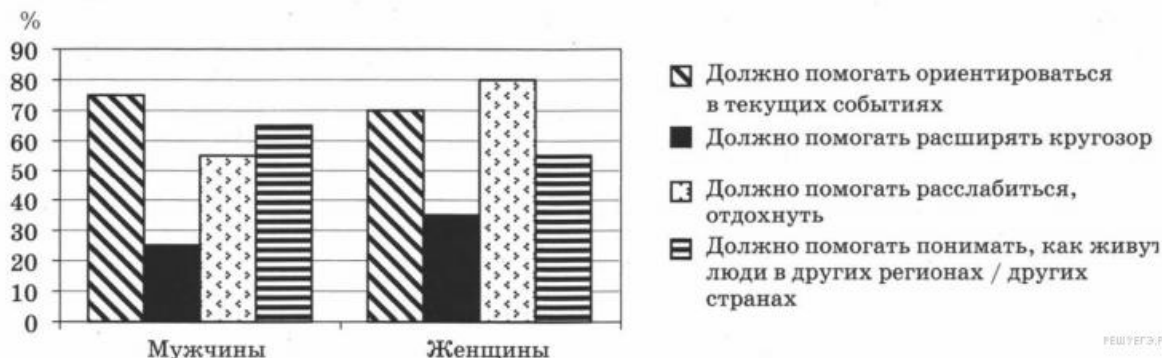
- 1) обострение конкуренции между производителями
- 2) вступление экономики в фазу подъёма
- 3) рост цен на используемое сырьё и фурнитуру
- 4) ослабление рекламной кампании по продвижению новых моделей
- 5) увеличение транспортных расходов по доставке товара в магазины

11. Выберите верные суждения об отклоняющемся поведении и запишите цифры, под которыми они указаны.

- 1) Нервно-психические заболевания человека, задержка его психического и физического развития являются одной из причин отклоняющегося поведения.
- 2) Примером позитивного отклоняющегося поведения является занятие благотворительностью.
- 3) Снижение уровня экономического развития не связано с увеличением числа лиц с отклоняющимся поведением.
- 4) Распад существующей системы социальных ценностей и норм, регулирующих жизнедеятельность людей, вызывает девиантное поведение.
- 5) Основными формами девиантного поведения являются: пьянство, наркомания, преступность.

12. В ходе социологического опроса мужчин и женщин страны Z им задавали вопрос: «Какие важнейшие задачи должно выполнять телевидение?» (можно было выбрать несколько ответов).

Полученные результаты опроса (в % от числа опрошенных) представлены в виде диаграммы.



Найдите в приведённом списке выводы, которые можно сделать на основе таблицы, и запишите цифры, под которыми они указаны.

- 1) Доля тех, кто считает, что телевидение должно помогать понимать, как живут люди в других регионах / других странах, среди женщин больше, чем среди мужчин.
- 2) Мнение о том, что телевидение должно помогать расслабиться, отдохнуть, среди женщин популярнее, чем среди мужчин.
- 3) Среди женщин мнение о том, что телевидение должно помогать расслабиться, отдохнуть, популярнее мнения о том, что телевидение должно помогать ориентироваться в текущих событиях.
- 4) Доля тех, кто считает, что телевидение должно помогать ориентироваться в текущих событиях, среди мужчин больше, чем среди женщин.
- 5) Среди мужчин мнение о том, что телевидение должно помогать расширять кругозор, более популярно, чем мнение о том, что телевидение должно помогать расслабиться, отдохнуть.

13. Найдите в приведённом ниже списке типы политических режимов и запишите цифры, под которыми они указаны.

- | | |
|---------------------|--------------------|
| 1) тоталитарный | 4) демократический |
| 2) пропорциональный | 5) легальный |
| 3) мажоритарный | 6) авторитарный |

14. Установите соответствие между функциями и субъектами государственной власти Российской Федерации, которые их исполняют: к каждой позиции, данной в первом столбце, подберите соответствующую позицию из второго столбца.

ФУНКЦИЯ	СУБЪЕКТ ГОСУДАРСТВЕННОЙ ВЛАСТИ
А) назначение выборов Президента Российской Федерации Б) надзор за соблюдением Конституции Российской Федерации В) обнародование федеральных законов Г) разрешение споров о компетенции между федеральными органами государственной власти Д) обеспечение согласованного функционирования и взаимодействия органов государственной власти	1) Прокуратура Российской Федерации 2) Совет Федерации Российской Федерации 3) Конституционный суд Российской Федерации 4) Президент Российской Федерации

Запишите в ответ цифры, расположив их в порядке, соответствующем буквам:

15.

Гражданка России Д. решила выдвинуть свою кандидатуру в качестве кандидата на пост Президента РФ. Однако, ознакомившись с ее документами, избирательная комиссия отказала ей в регистрации. Найдите в приведенном списке возможные причины отказа.

- 1) гражданке Д. недавно исполнилось 30 лет
- 2) гражданка Д. не является гражданкой РФ по рождению
- 3) гражданка Д. является атеисткой
- 4) гражданка Д. на территории РФ постоянно проживает 3 года
- 5) гражданка Д. не имеет высшего образования

16. Статья 14 Конституции РФ объявляет Российскую Федерацию светским государством. Это означает, что

- 1) признаны права и свободы человека и гражданина
- 2) устанавливается равная защита собственности любой формы (государственной, частной, муниципальной)
- 3) отсутствует государственная религия
- 4) ни одно вероучение не признается обязательным или предпочтительным
- 5) в стране узаконена многопартийность
- 6) признан и обеспечивается суверенитет народа

17. Выберите из предложенного признаки правового государства. *Ответ запишите цифрами без запятых и пробелов.*

- 1) наличие системы налогов и сборов
- 2) разделение и независимость ветвей власти
- 3) система сдержек и противовесов ветвей власти
- 4) верховенство закона, его равное действие для всех
- 5) разветвленная система правоохранительных органов
- 6) соотношение национальной валюты с валютами других стран

18. Установите соответствие между видами проступков и предусмотренными за них санкциями: к каждой позиции, данной в первом столбце, подберите соответствующую позицию из второго столбца.

САНКЦИИ

- А) взыскание неустойки
- Б) лишение прав управления транспортным средством
- В) объявление выговора

ВИДЫ ПРОСТУПКОВ

- 1) административные
- 2) гражданско-правовые
- 3) дисциплинарные

- Г) понижение в должности
- Д) возмещение убытков

Запишите в ответ цифры, расположив их в порядке, соответствующем буквам:

19. Районный суд города Z рассматривал иск об установлении отцовства гражданина Н. в отношении несовершеннолетнего сына гражданки Р. Найдите в приведённом ниже списке позиции, соответствующие правовому решению данной ситуации и запишите цифры, под которыми они указаны.

1) истец 2) подсудимый 3) ответчик 4) следователь	А. уголовное судопроизводство В. гражданское судопроизводство
--	--

20. Прочитайте приведённый ниже текст, в котором пропущен ряд слов.

«Мировоззрение — система обобщенных взглядов на мир и место _____ (А) в нем, на отношение людей к окружающей их действительности и самим себе, а также обусловленные этими взглядами основные _____ (Б) людей, их убеждения, идеалы, принципы познания и деятельности, ценностные ориентации. Мировоззрение – это далеко не все взгляды и _____ (В) об окружающем мире, а только их предельное обобщение. Содержание мировоззрения группируется вокруг того или иного решения _____ (Г) философии. В качестве _____ (Д) мировоззрения реально выступают группа и личность. Мировоззрение является ядром общественного и индивидуального сознания. Выработка мировоззрения — существенный показатель зрелости не только личности, но и определенной _____ (Е), общественного класса. По своей сущности мировоззрение — общественно-политический феномен, возникший с появлением человеческого общества.»

Выбирайте последовательно одно слово за другим, мысленно заполняя словами каждый пропуск. Обратите внимание на то, что в списке слов больше, чем вам потребуется для заполнения пропусков.

- | | | |
|----------------------|------------------|----------------------|
| 1) предметы | 2) субъект | 3) социальная группа |
| 4) жизненные позиции | 5) человек | 6) рассудок |
| 7) способности | 8) представления | 9) основной вопрос |

21.25. 1) раскройте смысл понятия «политическая культура».

- 2) привлекая знания обществоведческого курса, составьте два предложения:
 - одно предложение должно содержать информацию о типах политических культур
 - второе предложение должно содержать информацию об элементах политической культуры

22.26.

В правильном ответе должны быть названы источники права и приведены соответствующие примеры, допустим:

- 1) правовой обычай. (Например, судебные поединки у варварских народов);
- 2) нормативно-правовой акт. (Например, Конституция РФ является основным законом России);
- 3) нормативный договор. (Например, международный договор о дружбе и сотрудничестве, подписанный между Россией и Арменией).

Могут быть названы иные источники права, приведены другие примеры.

23.27.

40-летний Пётр занимал пост менеджера в одном из банков. Однако, достигнув 40-летия, он решил поменять род занятий, переехал с семьёй в сельскую местность и занялся фермерством. Как называется социальное явление, описанное в этом примере? Какой вид этого явления нашёл отражение в описанном примере? Используя обществоведческие знания, назовите два любых других вида этого социального явления.

24.28.

Используя обществоведческие знания, составьте сложный план, позволяющий раскрыть по существу

тему «Избирательное право и избирательный процесс в РФ». План должен содержать не менее трёх пунктов, из которых два или более детализированы в подпунктах.

Ответы

1. Ответ: валовой внутренний|валовой внутренний

2. Ответ: система образования

3. Ответ: 35|53

4. Ответ: 235

5. Ответ: 21231

6. Ответ: 146

7. Ответ: 34

8. Ответ: 42313

9. Ответ: 1345

10. Ответ: 35|53

11. Ответ: 1245

12. Ответ: 234

13. Ответ: 146

14. Ответ: 21434

15. Ответ: 14|41

16. Ответ: 34|43

17. Ответ: 234

18. Ответ: 21332

19. Ответ: 145

20. Ответ: 548923

21. 25. 1) раскройте смысл понятия «политическая культура».

2) привлекая знания обществоведческого курса, составьте два предложения:

— одно предложение должно содержать информацию о типах политических культур

— второе предложение должно содержать информацию об элементах политической культуры

Пояснение.

Правильный ответ должен содержать следующие элементы:

1) смысл понятия, например: «Политическая культура — уровень и характер политических взглядов, знаний и убеждений граждан, степень развития умения применять их в общественно-политической деятельности»;

2) два предложения с информацией о политической культуре:

— «Выделяют такие типы политической культуры как тоталитарный, авторитарный и демократический»;

— «Элементами политической культуры являются знания и представления о политике, политические ценностные ориентации, способы практических политических действий».

Элементы ответа могут быть приведены в иной, близкой по смыслу форме.

22. 26. В правильном ответе должны быть названы источники права и приведены соответствующие примеры, допустим:

1) правовой обычай. (Например, судебные поединки у варварских народов);

2) нормативно-правовой акт. (Например, Конституция РФ является основным законом России);

3) нормативный договор. (Например, международный договор о дружбе и сотрудничестве, подписанный между Россией и Арменией).

Могут быть названы иные источники права, приведены другие примеры.

Пояснение.

В правильном ответе должны быть названы источники права и приведены соответствующие примеры, допустим:

- 1) правовой обычай (например, судебные поединки у варварских народов Европы или обычай кровной мести);
- 2) нормативно-правовой акт (например, конституция, указ главы государства, постановление правительства);
- 3) нормативный договор (например, договор дарения, международный договор о дружбе и сотрудничестве).

Могут быть названы иные источники права, приведены другие примеры

23. 27.

40-летний Пётр занимал пост менеджера в одном из банков. Однако, достигнув 40-летия, он решил поменять род занятий, переехал с семьёй в сельскую местность и занялся фермерством. Как называется социальное явление, описанное в этом примере? Какой вид этого явления нашёл отражение в описанном примере? Используя обществоведческие знания, назовите два любых других вида этого социального явления.

Пояснение.

- 1) явление — социальная мобильность;
 - 2) вид — горизонтальная мобильность;
 - 3) два других вида, допустим: вертикальная; индивидуальная мобильность.
- Элементы ответа могут быть приведены в иных, близких по смыслу формулировках.

24.28.

Используя обществоведческие знания, составьте сложный план, позволяющий раскрыть по существу тему «Избирательное право и избирательный процесс в РФ». План должен содержать не менее трёх пунктов, из которых два или более детализированы в подпунктах.

Пояснение.

Один из вариантов плана раскрытия данной темы:

1. Понятие избирательного права.
2. Источники избирательного права в РФ:
 - а) Конституция РФ;
 - б) Федеральный закон «Об основных гарантиях избирательных прав граждан Российской Федерации»;
 - в) Федеральный закон «О референдуме Российской Федерации» и др.
3. Избирательные права граждан:
 - а) активное избирательное право;
 - б) пассивное избирательное право.
4. Принципы избирательного права в Российской Федерации:
 - а) всеобщие;
 - б) равные;
 - в) прямые;
 - г) тайные;
 - д) добровольные.
5. Избирательный процесс и его стадии в демократическом обществе:
 - а) назначение выборов;
 - б) создание "избирательной инфраструктуры";
 - в) выдвижение кандидатов и предвыборная агитация;
 - г) день перед выборами;
 - д) голосование;
 - е) подсчет голосов;
 - ж) определение и обработка итогов голосования;
 - з) официальное опубликование результатов выборов.
6. Проблемы совершенствования избирательного права в РФ.

Возможны другое количество и (или) иные корректные формулировки пунктов и подпунктов плана. Они могут быть представлены в назывной, вопросной или смешанной формах.

Наличие любых двух из 3—5 пунктов плана в данной или близкой по смыслу формулировке позволит раскрыть содержание этой темы по существу.